



Відповіді на завдання
III етапу Всеукраїнської учнівської олімпіади з
ГЕОГРАФІЇ (2023 р.)

10 клас

ЗАВДАННЯ № 1



Код: Г – 10 -

ТЕСТИ

БЛАНК ВІДПОВІДЕЙ НА ТЕСТИ

Тести **1-10** мають чотири варіанти відповіді, серед яких лише **один** правильний (**1 бал**). Тести **11-14** мають п'ять варіантів відповідей, серед яких лише **чотири** правильні (за кожну правильну відповідь – **1 бал**; усього – **4 бали** за кожне запитання). Тести **15-18** мають сім варіантів відповіді, серед яких лише **три** правильні (за кожну правильну відповідь – **1 бал**; усього – **3 бали** за кожне запитання).

Оберіть, на Вашу думку, правильні варіанти відповідей та позначте їх в бланку згідно з інструкцією.

УВАГА! Зараховуватись будуть відповіді, що позначено тільки в цьому бланку (друкованими літерами)

(виправлення не допускаються)

№	1	2	3	4	5	6	7	8	9	10
Відповідь	В	А	А	В	А	В	В	В	В	В

№ 11				№ 12				№ 13				№ 14			
1	2	3	4	1	2	3	4	1	2	3	4	1	2	3	4
Б	Г	А	Д	Б	А	Д	Г	Д	Г	А	Б	Б	А	Д	В

№ 15			№ 16			№ 17			№ 18		
2	4	5	2	3	7	2	4	7	1	3	6

Відкриті тести (за правильну і повну відповідь – 2 бали)

19. Наведіть приклади 2-х країн Європи, у яких площа території більше 500 000 км²:

Відповідь: 1) Україна; 2) Іспанія; 3) Франція

20. Назвіть метал, за виправкою якого, за даними Геологічної служби США, до топ-10 увійшли країни Бахрейн, ОАЕ, а до топ-15 – Саудівська Аравія та Катар.

Відповідь: металевого алюмінію

21. Визначте, на кордоні яких двох країн розташований водоспад Ніагарський.

Відповідь: 1) Канада; 2) США

22. Назвіть ім'я мореплавця, якого називають «Український Магеллан»: його ім'ям названо острів у Тихому океані, півострів на Алясці, протоку і річку, гору на о. Сахалін, вулицю в Ніжині.

Відповідь: Юрій Лисянський, навколосвітня експедиція (1803-1806 рр.)

23. Назвіть ім'я мореплавця, який першим перетнув Південне полярне коло Землі та вирішив, що материка південніше Австралії не існує.

Відповідь: Джеймс Кук

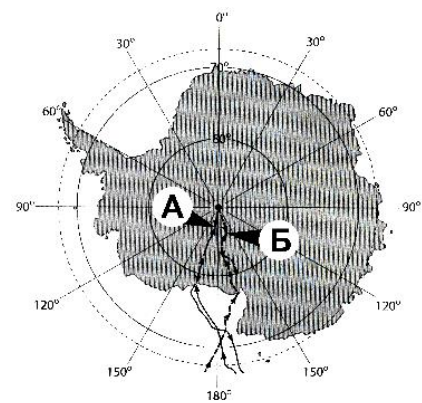
24. Наведіть приклади 2-х морів Європи, назви яких походять від назви країн, що ними омиваються.

Відповідь: 1) Норвезьке – Норвегія; 2) Ірландське – Ірландія

25. Назвіть мандрівників, які першими досягли Південного Полюсу за маршрутами, позначеними на карті.

Відповідь:

А Рауль Амундсен; **Б** Роберт Скотт



26. Укажіть дві височини, що мають найбільшу абсолютну висоту поверхні на території України.



Відповідь: 1) Хотинська, 515 м

2) Подільська, 471 м

27. Назвіть безлісі ділянки верхнього поясу Українських Карпат та Кримських гір.

Відповідь: 1) полонина; 2) яйла

28. Назвіть корисні копалини за їх позначками.

1)  – кам'яна сіль; 2)  – залізна руда

**Таблиця для відповіді на відкриті тести
(10 кл.) (№ 19-28)**

УВАГА! Зараховуватись будуть відповіді, що позначено тільки в цьому бланку (друкованими літерами)

№	Відповідь (10)	№	Відповідь (10)
19	1) Україна 2) Іспанія 3) Франція	24	1) Норвезьке – Норвегія 2) Ірландське – Ірландія
20	металевого алюмінію	25	А) Рауль Амундсен Б) Роберт Скотт
21	1) Канада 2) США	26	1) Хотинська, 515 м 2) Подільська, 471 м
22	Юрій Лисянський, навколосвітня експедиція (1803-1806 рр.)	27	1) полонина 2) яйла
23	Джеймс Кук	28	1) кам'яна сіль 2) залізна руда

ЗАВДАННЯ № 3 (1) (10 кл.)

1. За показниками структури економіки, наведеними в таблиці, визначте, яким країнам із запропонованих (Індонезія, Кувейт, Нідерланди, Ефіопія) вони відповідають. Стисло поясніть свій вибір (за правильну відповідь – 0,5 б., за пояснення – 1 б.; усього – 6 б.).

Структура економіки (%)

Країна	Сільське господарство	Промисловість	Сфера послуг	Відповідь
А	0	45	55	Кувейт
Б	52	11	37	Ефіопія
В	17	47	36	Індонезія
Г	3	27	70	Нідерланди

ЗАВДАННЯ № 3 (2) (10 кл.)

2. Використовуючи контурну карту та розділ таблиці «Характеристика річок», визначте річки «Євразії» та заповніть таблицю (за кожну правильну відповідь, позначену в розділах 3 та 4 таблиці – 0,4 б.; усього – 12 балів.)

№ з/п	Характеристика річок (10)	Номер річки на карті	Назва річки
1	2	3	4
1	Верхів'я цієї річки з'єднується з верхів'ям іншої річки каналом	2	Рейн
2	На цій річці побудовано найпотужнішу електростанцію в світі	16	Янцзи
3	Друга за довжиною річка Європи, що протікає через територію 8 держав	1	Дунай
4	Найбільша за довжиною річка Середньої Азії, нинішній об'єм стоку якої в гирлі зазнав суттєвого зменшення у зв'язку із значним використанням води на господарські потреби	13	Сирдар'я
5	Третя за водністю річка світу, на берегах якої проводять різноманітні ритуали релігійного характеру	14	Інд
6	Ця річка має льодовикове живлення, у верхів'ї течії має назву Пяндж	8	Амудар'я
7	Найбільша у світі річка внутрішнього стоку	3	Волга
8	Річка, яка впадає в найбільш прісне море світу	4	Вісла
9	Річка, назва якої має жіноче ім'я	10	Лена
10	Річка, яка має найбільшу «меандру» в світі, впадає в море, назва якого походить від назви цієї річки	15	Хуанхе
11	Єдина річка, яка витікає з найглибшого прісноводного озера на Землі	11	Ангара
12	Між цими двома річками розташована заболочена місцевість, яку називають «Васюганська рівнина»	5 7	Об Іртиш
13	Річка, більша половина довжини якої, протікає по кордону двох могутніх держав	9	Амур
14	Ця річка протікає через територію 6 держав	12	Меконг
15	Річка, яку стародавні греки називали Борисфеном	3	Дніпро

Контурна карта до завдання № 3 (2) (10 клас)

